


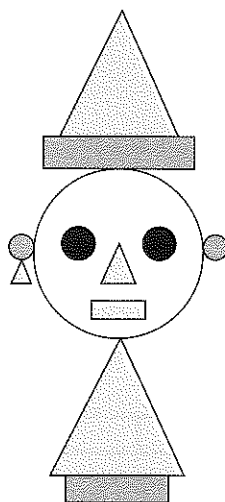
Séance 42 Le rapport entre deux quantités (1)

1 Camille veut mélanger 4 seaux de sable avec 3 seaux d'eau pour faire un château de sable.




- a) Le rapport entre le nombre de seaux de sable et le nombre de seaux d'eau est de : .
- b) Le rapport entre le nombre de seaux d'eau et le nombre de seaux de sable est de : .

2 Bastien a dessiné un lutin en assemblant différentes formes.



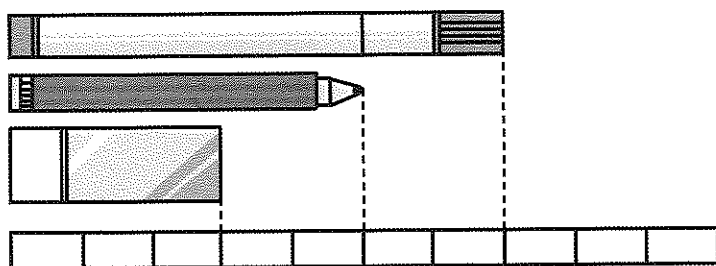
- a) Le rapport entre le nombre de triangles et le nombre de disques est de : .
- b) Le rapport entre le nombre de disques et le nombre de triangles est de : .
- c) Le rapport entre le nombre de disques et le nombre total de rectangles et de triangles est de : .

3 Raïssa a acheté des paquets d'autocollants.



- a) Le rapport entre le nombre de paquets d'autocollants en forme de cœur et le nombre de paquets d'autocollants en forme d'étoile est de : .
- b) Le rapport entre le nombre de paquets d'autocollants en forme d'étoile et le nombre de paquets d'autocollants en forme de cœur est de : .

4



- a) Le rapport entre la taille de la gomme et la taille du crayon est de : .
- b) Le rapport entre la taille du marqueur et la taille du crayon est de : .
- c) Le rapport entre la taille du crayon et la taille du marqueur est de : .